

2^{ÈME} PRIMAIRE



CARNET DE TRAVAIL 8

SEMAINE DU 18 AU 24 MAI

2 A Mr Dullaers	2 B Mme Maïté
--------------------	------------------

Suggestion de planning Carnet de travail 8				
Lundi 18/05	Mardi 19/05	Mercredi 20/05	Jeudi 21/05	Vendredi 22/05
ESPACE : Géométrie	GRANDEURS : Les balances SOLIDES ET FIGURES : Coordonnées	NOMBRES : D et u		
LIRE / ECRIRE : LQDP Vert Leçon 32 page 42	LIRE et ÉCRIRE : jeux	LIRE : LQDP Rouge Étape 3 page 34		


Matériel nécessaire pour la semaine :

- Stylo
- Effaceur
- Crayon d'écriture
- Règle
- Gomme
- Ciseaux
- Colle
- Crayons de couleur
- Livre « Lire que du plaisir ».

Géométrie

Colorie

*en jaune les carrés,
en vert les rectangles,
en bleu les triangles et
en rouge les cercles.*



Leçon 32 De quoi s'occuper...

euil - euille
ueil - ueille

Robin a terminé ses devoirs. Il a rangé son cartable ; pourtant, quelques feuillets dépassent encore. Bien assis dans le fauteuil, il jette un œil au feuilleton télévisé, mais il s'ennuie.

« J'irais bien à la pêche », pense-t-il. À vrai dire, la semaine dernière, il est rentré déçu. Dans son épuisette, il n'avait récolté que des boîtes de conserve : de la soupe de cerfeuil, du pâté de chevreuil et même un portefeuille.

Tout à coup, il a une idée, il va faire des recherches pour retrouver ses ancêtres.

Avec madame Irène, ils ont parlé de construire un arbre généalogique. Sur une grande feuille, il commence

par l'aïeul Félicien Dubreuil : courageux soldat dont on n'a jamais retrouvé le cercueil.

Puis, c'est Édouard Dubreuil : chasseur d'écureuils.

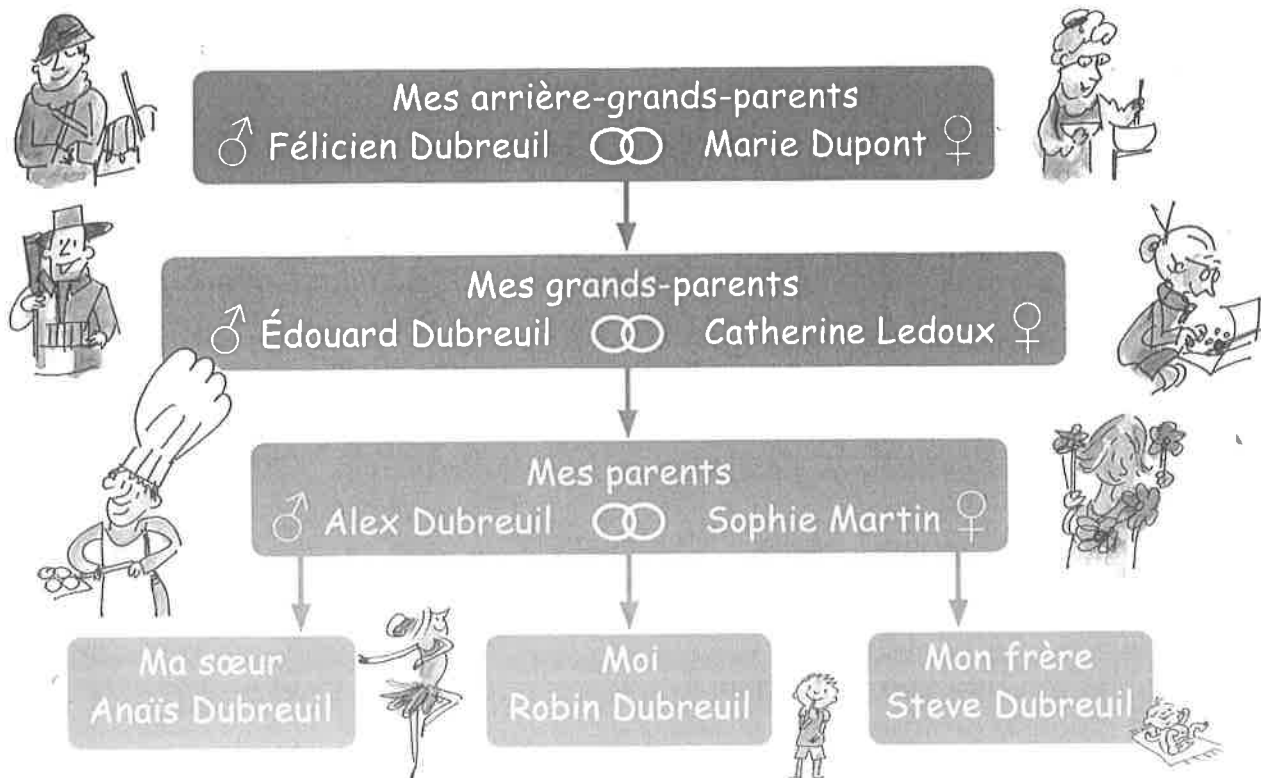
Ah, cela devient plus facile. Voici papa : chef pâtissier, roi des feuilletés et des mille-feuilles.

Compléter son arbre généalogique, c'est passionnant.

Robin a déjà réservé son emplacement.

« Je vais simplement mettre ma photo, pour le métier j'hésite encore », dit-il.

« Tu as raison », dit maman, « en attendant, viens m'aider pour la cueillette des fruits. »





Prénom : _____

Date : _____

Leçon 32
euil – euille/ ueil - ueille



1) Écris le nom de chaque personne :



2) Écris le nom de ce que tu as reconnu et dessine-le :

C'est un siège.

un _____

C'est du papier.

une _____

C'est un animal.

le _____

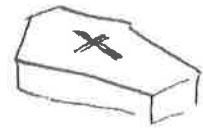
C'est pour mettre des billets.

un _____

C'est un gâteau.

un _____

3) Entoure le mot qui correspond au dessin :



bouvreuil

feuille

écureuil

feuitaul

cercueil

buovruiel

fuellie

éceuilru

fauteuil

cerceuil

bouvrieul

feuille

écurueil

faueuilt

cercueil

4) Relie à la latte :

Des ciseaux *

* pour la soupe de cerfeuil.

Une télévision *


* pour découper ma feuille.

Une casserole *

* pour regarder un feuilleton.

GRANDEURS

Colorie l'objet le plus lourd quand c'est possible.



SOLIDES ET FIGURES


Place chaque objet sur le quadrillage.

○ (4, B)	☾ (9, A)	🍷 (5, E)
☁ (1, G)	🍬 (2, D)	△ (3, F)
♥ (7, C)	□ (6, H)	🍄 (4, I)
★ (8, B)	🍏 (8, D)	✕ (1, A)

	1	2	3	4	5	6	7	8	9
A									
B									
C									
D									
E									
F									
G									
H									
I									

LECTURE

Ecris le bon
numéro dans la bulle
de l'image.



1.
Ma pelle est à
droite de l'image.
Je porte des
bottes claires et
ma casquette sur
le côté.

2.
Je porte un
chapeau et mes
deux mains sont
dans les poches de
mon short.

3.
Je ne tiens ni mon
seau, ni ma pelle.
Mon short a un
liseré blanc sur les
côtés.

4.
Je tiens ma pelle
avec la main
droite. Je porte
des lunettes et une
casquette.

5.
Je tiens mon seau
et ma pelle. J'ai le
short le plus clair
de tous. Je ne suis
pas très content.

6.
Je porte un
chapeau mais pas
de lunettes. J'ai
une main dans la
pochette, l'autre sur
la pelle.

ECRITURE

Ecris 3 phrases. Pour cela lance le dé et écris la phrase.

Qui ?

- Un gentil géant
- Une tortue bariolée
- Un lapin bavard
- Une troupe d'acrobates
- Un lutin malin
- Un pianiste enrhumé

Quoi ?

- découvre un livre mystérieux
- utilise une clé magique
- mange un gâteau au chocolat
- se promène en sifflotant
- construit un château de cartes
- joue à la marelle

Quand ?

- à minuit
- après la sieste
- lundi matin
- à midi
- en hiver
- pendant les vacances

Où ?

- dans la forêt.
- près de la mare aux canards.
- au milieu du désert.
- chez la sorcière.
- sur la lune.
- dans une grotte.

Situe chaque nombre entre ses 2 dizaines les plus proches.

88 se situe entre et

52 se situe entre et

Ecris un nombre compris entre 90 et 100

5) Ecris les nombres dictés par l'adulte.

.....
Ecris des nombres en utilisant seulement les chiffres suivants : 2 - 4 - 6 - 7.

Ecris un nombre de deux chiffres qui a 4 dizaines :


Ecris le plus petit nombre possible de deux chiffres :

Ecris le nombre de deux chiffres qui est le plus proche de 60 :

Ecris le nombre le plus proche de 70 en utilisant deux fois le même chiffre :

Voici 4 nombres :

40	57	23	39
----	----	----	----



Ecris ceux qui sont compris entre 38 et 54 :

Ordonne ces nombres du plus grand au plus petit :

.....

Étape 32

La friterie de monsieur Léon



Depuis dix ans, monsieur Léon a installé sa friterie au bord de la route. Il a placé un auvent pour les jours de pluie, et quelques tables avec des chaises pour les beaux jours.

Monsieur Léon a tout prévu : une enseigne lumineuse « La bonne frite », une petite musique d'ambiance, et de chaque côté, deux grandes poubelles métalliques.



Le matin quand je passe en voiture avec maman, les volets de « La bonne frite » sont baissés et le mobilier cadennassé. Mais au retour de l'école, la petite friterie est bien animée. Quand maman ralentit, j'ai le temps de compter les clients et même de lire le grand panneau qui indique les prix des grands et petits ravier, des différentes sauces, des brochettes, des boulettes... Monsieur Léon a aussi un distributeur de boissons fraîches !

L'autre jour, en rentrant de la piscine, papa et moi nous sommes arrêtés car nous avons une faim de loup.

« Allez mon grand, dit papa, comme maman est absente pour toute la journée, on va se faire un petit plaisir, je t'invite chez Léon. »

Dans la file d'attente, on décide : ce sera un grand ravier pour lui et un petit pour moi. Hum ! Qu'est-ce que ça sent bon !

En attendant papa, je vais chercher les boissons au distributeur et je m'installe à une table. Moi aussi, ce samedi, je suis l'heureux client de monsieur Léon !

prénom : _____

date : _____

Étape 32

La frite de monsieur Léon

1) Souligne la bonne réponse.

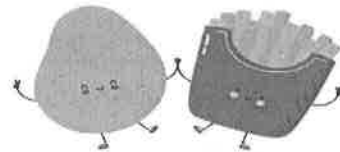
1

Le nom de la friterie est :

La bonne friterie

La bonne frite

La pomme frite

2) Coche

6

	VRAI	FAUX	ON NE LE DIT PAS
Monsieur Léon est installé là depuis six ans.			
Le nom du garçon est Lucien.			
Le matin, la friterie est fermée.			
Il y a des boissons fraîches.			
Le garçon fait de la natation.			
Le prix d'un grand ravier est de 2 euros.			

4

3) Dis comme dans le texte.

- Monsieur Léon a prévu une affiche lumineuse.

.....

- La nuit, le mobilier est verrouillé.

.....

- Monsieur Léon a tout prévu : une petite musique apaisante

.....

et deux poubelles en plastique.

.....

4) Qui parle ? écris papa, le garçon ou maman.

4

Le matin quand je passe en voiture.

Je suis l'heureux client de monsieur Léon.

Je t'invite chez Léon.

Je suis absente pour la journée.

5) Pomme ou pomme de terre ?

5


Je pousse sur un arbre.

Je me transforme en frites ou en purée.

Je pousse dans la terre.

Je me transforme en compote.

Je peux être rouge, verte ou jaune.




MAX et BOUZOUKI



LA PÊCHE AUX CREVETTES








CORRIGÉS

Géométrie

Colorie

en jaune les carrés,
en vert les rectangles,
en bleu les triangles et
en rouge les cercles.



Prénom : _____


Date : _____

Leçon 32

euil – euille/ ueil - ueille



1) Écris le nom de chaque personne :



2) Écris le nom de ce que tu as reconnu et dessine-le :

C'est un siège.

un fauteuil

C'est du papier.

une feuille

C'est un animal.

le bouvreuil / l'écureuil

C'est pour mettre des billets.

un portafeuille

C'est un gâteau.

un mille-feuilles

3) Entoure le mot qui correspond au dessin :



bouvreuil

buovruiel

bouvrieul



fuillee

fuellie

feuille



écureuil

éceuiltru

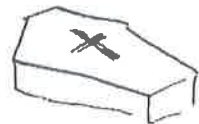
écurueil



feuitaul

fauteuil

faueuilt



cercueil

cerceuil


cercueil

4) Relie à la latte :

Des ciseaux * ~~pour la soupe de cerfeuil.~~
 Une télévision * ~~pour découper ma feuille.~~
 Une casserole * ~~pour regarder un feuilleton.~~

GRANDEURS

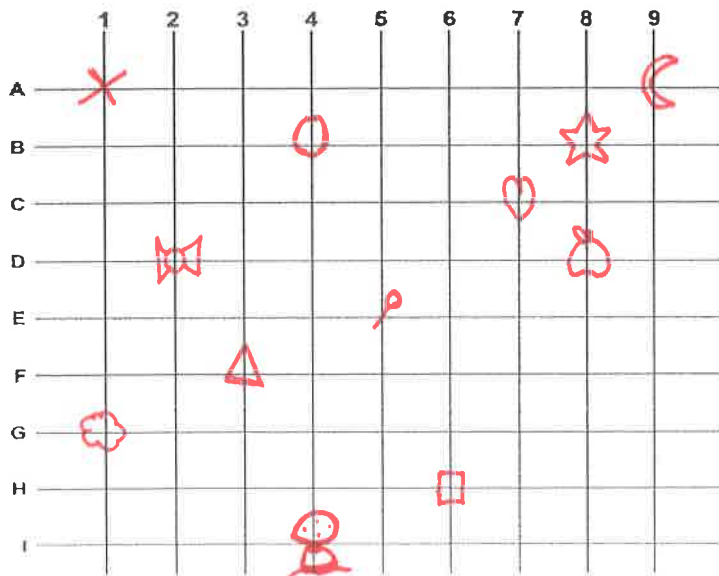
Colorie l'objet le plus lourd quand c'est possible.



SOLIDES ET FIGURES


Place chaque objet sur le quadrillage.

○ (4, B)	☾ (9, A)	📌 (5, E)
☁ (1, G)	👓 (2, D)	△ (3, F)
♥ (7, C)	□ (6, H)	🍄 (4, I)
☆ (8, B)	🍏 (8, D)	✕ (1, A)



LECTURE

Écris le bon
numéro dans la bulle
de l'image.



1.
Ma pelle est à
droite de l'image.
Je porte des
bottes claires et
ma casquette sur
le côté.

2.
Je porte un
chapeau et mes
deux mains sont
dans les poches de
mon short.

3.
Je ne tiens ni mon
seau, ni ma pelle.
Mon short a un
liseré blanc sur les
côtés.

4.
Je tiens ma pelle
avec la main
droite. Je porte
des lunettes et une
casquette.

5.
Je tiens mon seau
et ma pelle. J'ai le
short le plus clair
de tous. Je ne suis
pas très content.

6.
Je porte un
chapeau mais pas
de lunettes. J'ai
une main dans la
poche, l'autre sur
la pelle.

ÉCRITURE

Écris 3 phrases. Pour cela lance le dé et écris la phrase.

Qui ?

- Un gentil géant
- Une tortue bariolée
- Un lapin bavard
- Une troupe d'acrobates
- Un lutin malin
- Un pianiste enrhumé

Quoi ?

- découvre un livre mystérieux
- utilise une clé magique
- mange un gâteau au chocolat
- se promène en sifflotant
- construit un château de cartes
- joue à la marelle

Quand ?

- à minuit
- après la sieste
- lundi matin
- à midi
- en hiver
- pendant les vacances

Où ?

- dans la forêt.
- près de la mare aux canards.
- au milieu du désert.
- chez la sorcière.
- sur la lune.
- dans une grotte.

Situe chaque nombre entre ses 2 dizaines les plus proches.

88 se situe entre 80 et 90

52 se situe entre 50 et 60

Ecris un nombre compris entre 90 et 100 91, 92, 93, 94, 95,
96, 97, 98, 99

5) Ecris les nombres dictés par ton enseignante.
l'adulte.

Ecris des nombres en utilisant seulement les chiffres suivants : 2 - 4 - 6 - 7.

Ecris un nombre de deux chiffres qui a 4 dizaines : 42, 44, 46,
47


Ecris le plus petit nombre possible de deux chiffres : 22

Ecris le nombre de deux chiffres qui est le plus proche de 60 : 62

Ecris le nombre le plus proche de 70 en utilisant deux fois le même chiffre : 66

Voici 4 nombres :

40	57	23	39
----	----	----	----



Ecris ceux qui sont compris entre 38 et 54 : 40, 39

Ordonne ces nombres du plus grand au plus petit :

57, 40, 39, 23

prénom : _____

date : _____

Étape 32

La frite de monsieur Léon


1) Souligne la bonne réponse.

Le nom de la friterie est :

La bonne friterie

La bonne frite

La pomme frite

2) Coche

	VRAI	FAUX	ON NE LE DIT PAS
Monsieur Léon est installé là depuis six ans.		X	
Le nom du garçon est Lucien.			X
Le matin, la friterie est fermée.	X		
Il y a des boissons fraîches.	X		
Le garçon fait de la natation.	X		
Le prix d'un grand ravier est de 2 euros.	X		

4

3) Dis comme dans le texte.

- Monsieur Léon a prévu une affiche lumineuse.

enseigne.....

- La nuit, le mobilier est verrouillé.

cadenas.....

- Monsieur Léon a tout prévu : une petite musique apaisante

d'ambiance.....

et deux poubelles en plastique.

métalliques.....

4) Qui parle ? écris papa, le garçon ou maman.

4

Le matin quand je passe en voiture. le garçon.....

Je suis l'heureux client de monsieur Léon. le garçon.....

Je t'invite chez Léon. papa.....

Je suis absente pour la journée. maman.....

5) Pomme ou pomme de terre ?

5

Je pousse sur un arbre. une pomme.....

Je me transforme en frites ou en purée. pomme de terre.....

Je pousse dans la terre. pomme de terre.....

Je me transforme en compote. pomme.....

Je peux être rouge, verte ou jaune. pomme.....

