

Manipulation : Réalise ces assemblages à l'aide du matériel que tu as récolté..

## Géométrie dans l'espace

**Reproduis cet assemblage.**



1



## Géométrie dans l'espace

**Reproduis cet assemblage.**



2



téléchargé gratuitement sur

[melimelune.com](http://melimelune.com)

## Géométrie dans l'espace

Reproduis cet assemblage.




3



## Géométrie dans l'espace

Reproduis cet assemblage.




4



## Géométrie dans l'espace

Reproduis cet assemblage.




5



## Géométrie dans l'espace

Reproduis cet assemblage.



6



## Géométrie dans l'espace

Reproduis cet assemblage.




7



## Géométrie dans l'espace

Reproduis cet assemblage.




8



## Géométrie dans l'espace

Reproduis cet assemblage.




9



## Géométrie dans l'espace

Reproduis cet assemblage.



10



## Géométrie dans l'espace

Reproduis cet assemblage.




11



## Géométrie dans l'espace

Reproduis cet assemblage.




12



## Géométrie dans l'espace

Combien y a-t-il de cubes dans cet assemblage?



1



## Géométrie dans l'espace

Combien y a-t-il de cubes dans cet assemblage?



2



téléchargé gratuitement sur  
[melimelune.com](http://melimelune.com)

## Géométrie dans l'espace

Combien y a-t-il de cubes dans cet assemblage?




3



## Géométrie dans l'espace

Combien y a-t-il de cubes dans cet assemblage?




4





## Géométrie dans l'espace

Combien y a-t-il de cubes dans cet assemblage?




5



## Géométrie dans l'espace

Combien y a-t-il de cubes dans cet assemblage?




6



## Géométrie dans l'espace

Combien y a-t-il de cubes dans cet assemblage?




7



## Géométrie dans l'espace

Combien y a-t-il de cubes dans cet assemblage?




8



## Géométrie dans l'espace

Combien y a-t-il de cubes dans cet assemblage?




9



## Géométrie dans l'espace

Combien y a-t-il de cubes dans cet assemblage?




10



## Géométrie dans l'espace

Combien y a-t-il de cubes dans cet assemblage?




11



## Géométrie dans l'espace

Combien y a-t-il de cubes dans cet assemblage?




12



## Géométrie dans l'espace

Combien y a-t-il de cubes dans cet assemblage?




13



## Géométrie dans l'espace

Combien y a-t-il de cubes dans cet assemblage?




14



téléchargé gratuitement sur  
[melimelune.com](http://melimelune.com)

## Géométrie dans l'espace

Combien y a-t-il de cubes dans cet assemblage?




15



## Géométrie dans l'espace

Combien y a-t-il de cubes dans cet assemblage?




16



téléchargé gratuitement sur  
[melimelune.com](http://melimelune.com)

## Géométrie dans l'espace

Combien y a-t-il de cubes dans cet assemblage?




17



## Géométrie dans l'espace

Combien y a-t-il de cubes dans cet assemblage?




18



téléchargé gratuitement sur  
[melimelune.com](http://melimelune.com)

## Géométrie dans l'espace

Combien y a-t-il de cubes dans cet assemblage?




19



## Géométrie dans l'espace

Combien y a-t-il de cubes dans cet assemblage?



20





