

2^{ÈME} PRIMAIRE



CARNET DE TRAVAIL 6

SEMAINE DU 4 AU 10 MAI

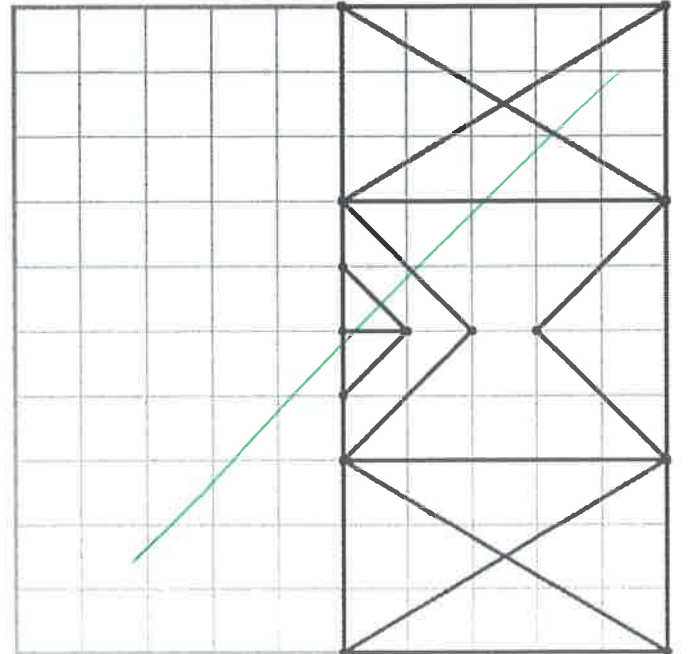
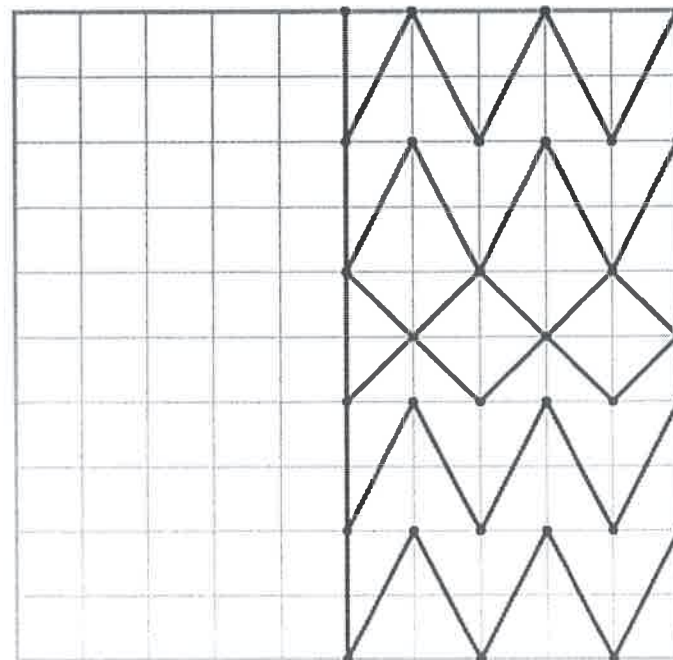
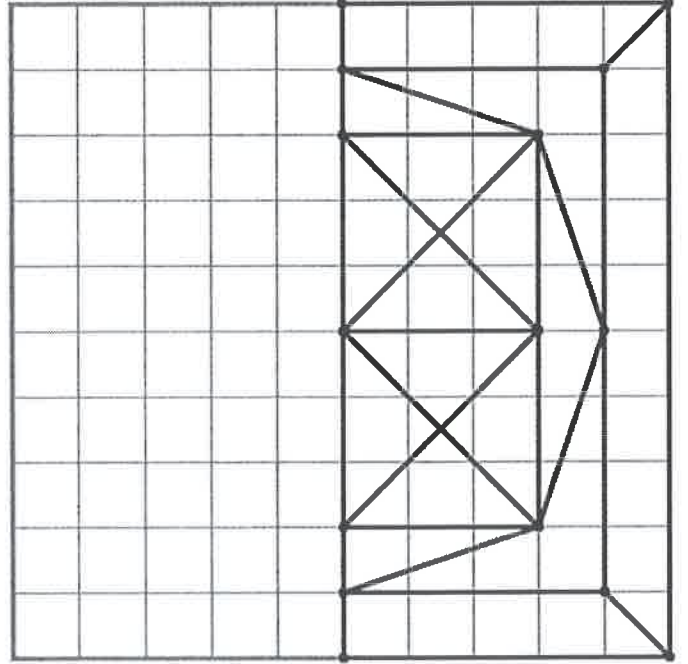
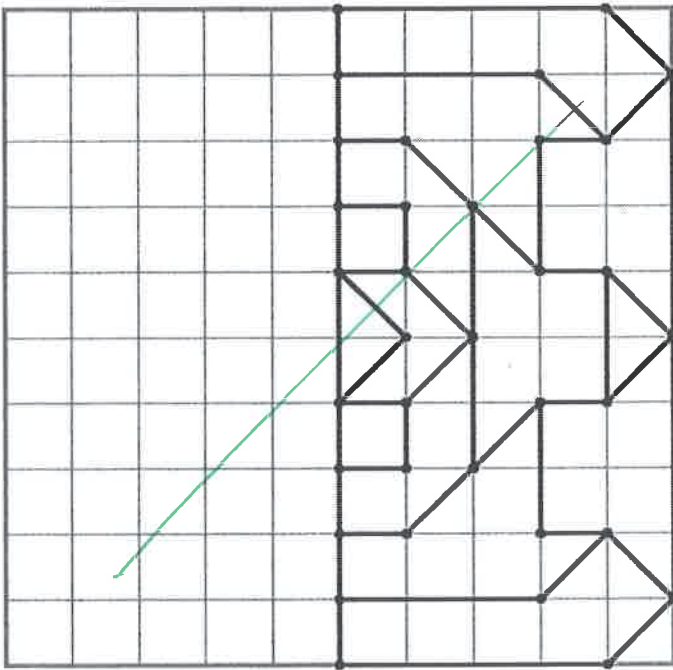
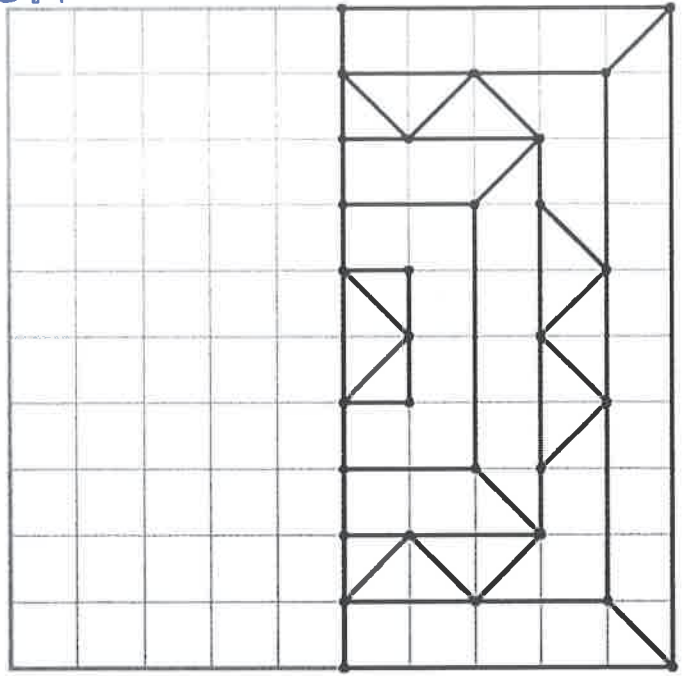
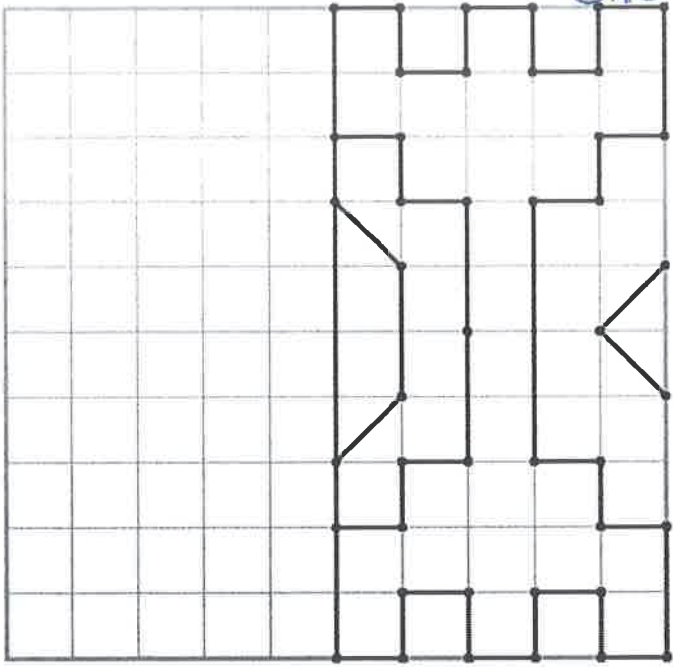
2 A Mr Dullaers	2 B Mme Maïté
--------------------	------------------

Suggestion de planning Carnet de travail 6				
Lundi 4/05	Mardi 5/05	Mercredi 6/05	Jeudi 7/05	Vendredi 8/05
ESPACE : Symétrie (à la latte)	NOMBRES : Les dizaines entières	NOMBRES : Décomposition	TRAITEMENT DE DONNÉES : Le goûter	NOMBRES : pairs / impairs
LIRE / ECRIRE : LQDP Vert Leçon 30 page 40	LIRE : Inférences	LIRE : LQDP Rouge Étape 30 page 32	LIRE : Je lis, je fais.	ECRIRE : Recopie les mots de la phrase dans l'ordre

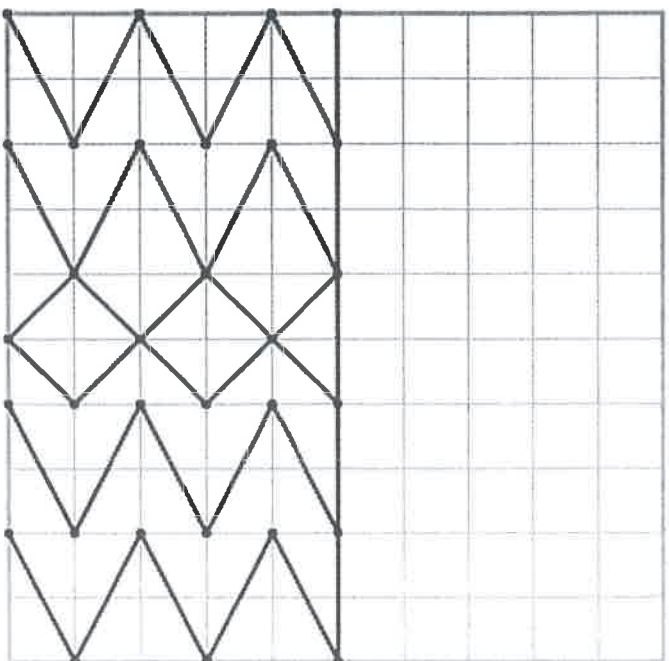
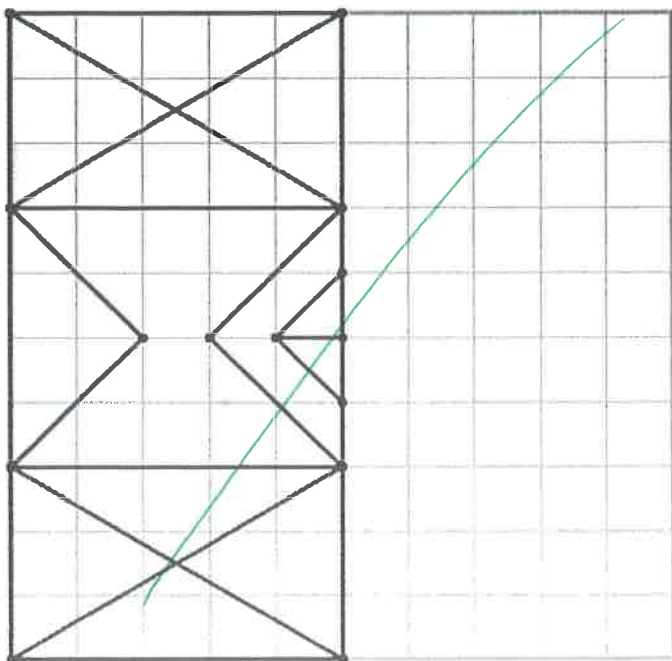
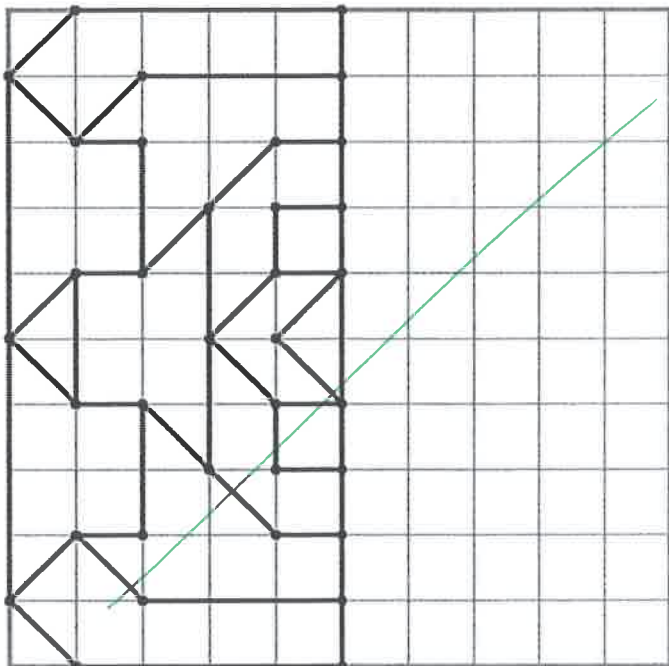
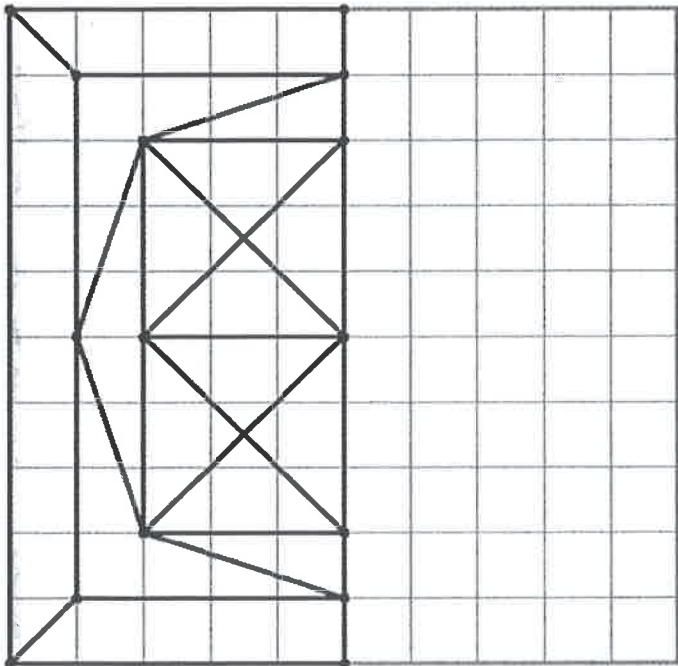
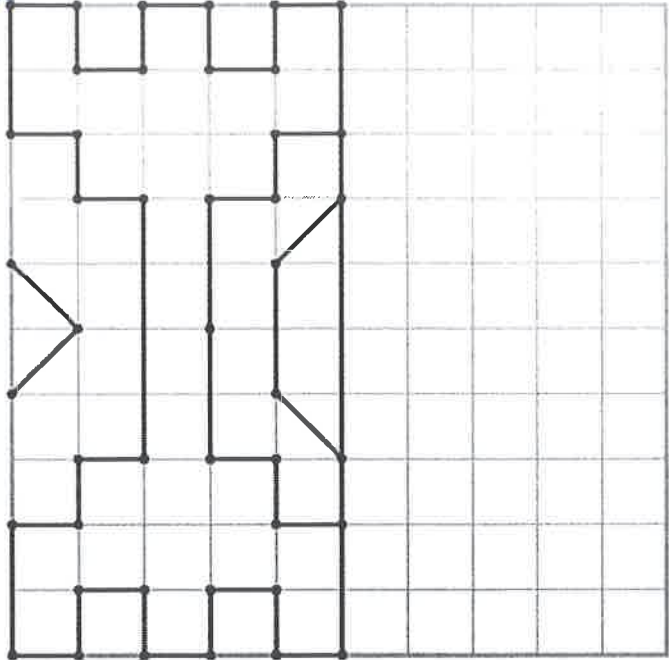
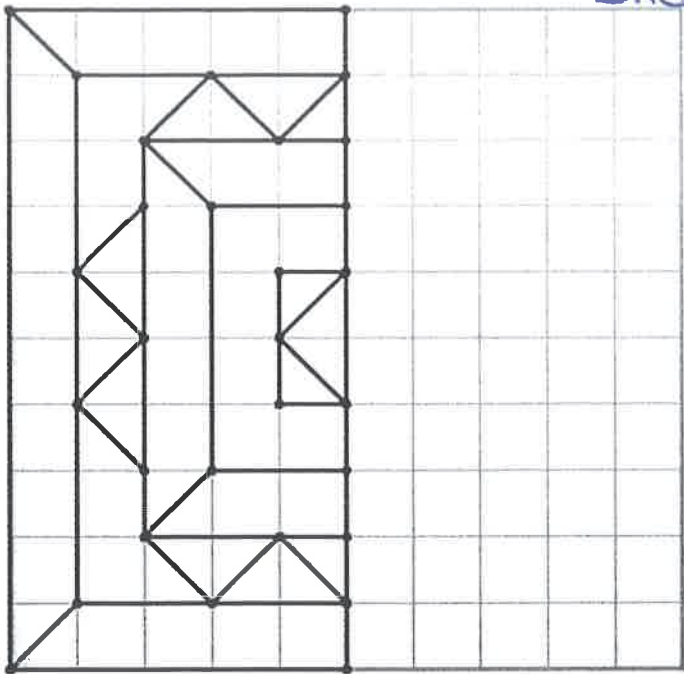
Matériel nécessaire pour la semaine :

- Stylo
- Effaceur
- Crayon d'écriture
- Règle
- Gomme
- Ciseaux
- Colle
- Crayons de couleur
- Livre « Lire que du plaisir ».

GAUCHER



DROITER



Leçon 30

Un cadeau pour maman

ui



En classe, depuis quelques semaines, les enfants ont mis tout leur cœur à préparer de jolis cadeaux.

Dimanche, c'est la fête des mamans et chacun a bien sa petite idée pour offrir « un petit plus » à sa maman. Ainsi, elle aura deux cadeaux dit Marie, un de l'école et un de la maison.

Marie peint huit jolies cartes pour sa maman chérie.

Sophie pense lui offrir un stylo dans un bel étui.

Céline demandera l'aide de bonne-maman pour lui cuire son gâteau préféré.

Jean achètera une belle corbeille de fruits.

Luc croit qu'un parapluie ferait vraiment plaisir à sa maman car elle a perdu le sien.

Marc achètera un paquet de biscuits : des tuiles aux amandes. Ce sont ses biscuits préférés, pense-t-il !

Pauline suit Julien dans la cuisine sans faire de bruit. Ils vont emballer tout de suite le beau sac en cuir qu'ils ont acheté avec l'aide de papa.

La suite ? Vous l'avez devinée, ce dimanche toutes les mamans seront les plus heureuses du monde !

Et des bisous, il y en aura pour tout le monde.

Prénom : _____

Date : _____

<p>Leçon 30</p> <p>ui</p>	
---	---

1) Deux phrases ont été mélangées, recopie-les dans l'ordre :

Maman	sera	la	jolies	heureuse	à	monde.
Marie	offrira	de	plus	cartes	du	maman.

a) _____

b) _____

2) Écris le mot qui correspond sous chaque dessin :



une corbeille de

.....



un



le chiffre



les ustensiles de

.....



un sac en

.....

3) Relie à la latte ce que chaque personne offrira :

- Jean offrira *
- Marc offrira *
- Luc offrira *
- Céline offrira *
- Sophie offrira *
- Marie offrira *

- * un parapluie.
- * un stylo.
- * huit cartes.
- * un gâteau.
- * une corbeille de fruits.
- * un paquet de biscuits.

Prénom :

Mathématiques

Les dizaines entières

Exercices P2

Nombres



1. Entoure les dizaines entières.

50 23 1 10 90 65 53 40 74 20 30 18 60 25 30 55 50

2. Complète la suite des dizaines (entières).

0			30				70			
---	--	--	----	--	--	--	----	--	--	--

3. Relie le nom avec le nombre.

vingt quarante cent cinquante quatre-vingts nonante trente soixante

• • • • • • • •

• • • • • • • •

100 80 20 40 50 30 60 90

4. Il manque une dizaine entière dans l'exercice 3. Écris-la en dessous :

en chiffres	en lettres

5. Quel est la (première) dizaine entière après les nombres suivants ? Combien il faut ajouter pour l'atteindre ?

La dizaine entière après 28 est : 30	$28 + 2 = 30$	La dizaine entière après 46 est :	$46 + \dots = \dots$
La dizaine entière après 53 est :	$53 + \dots = \dots$	La dizaine entière après 71 est :	$71 + \dots = \dots$
La dizaine entière après 19 est :	$19 + \dots = \dots$	La dizaine entière après 94 est :	$94 + \dots = \dots$
La dizaine entière après 37 est :	$37 + \dots = \dots$	La dizaine entière après 88 est :	$88 + \dots = \dots$

Ce qui l'a attiré dans ce métier, c'est de sauver et d'aider les gens, bien sûr. Mais il adore également conduire les énormes véhicules rouges garés à la caserne.

Qui conduit ces véhicules ?

- a) Un ambulancier
- b) Un pompier
- c) Un chauffeur de bus

E

Bien sûr, mes chaussures neuves me faisaient un peu mal aux pieds, mais j'étais contente de retrouver mes copines. Dès que je les vis arriver, je fis un bisou à maman et courus les rejoindre.

Qui parle ?

- a) Une institutrice
- b) Une maman
- c) Une petite fille

A

Demain, comme tous les dimanches, j'irai à la piscine avec maman. J'espère y retrouver tous mes amis habituels pour jouer avec eux.

Quel jour sommes-nous ?

- a) Dimanche
- b) Lundi
- c) Samedi

F

Paul ouvre le parasol, déroule sa serviette, enfile son maillot de bain, il entraîne avec lui sa sœur qui a terminé la construction de son château. Il court et envoie du sable partout.

Où se trouvent Paul et sa sœur ?

- a) À la piscine
- b) À la mer
- c) Dans le jardin

B

La dame me pèse, me mesure, me met un casque sur les oreilles pour voir si j'entends bien et me tend un petit pot pour que je fasse pipi dedans.

Qui est cette dame ?

- a) L'institutrice
- b) Une infirmière
- c) Une vendeuse

M

Nina a préparé son déguisement de sorcière pour le carnaval. Elle a sorti sa cape, son chapeau et sa baguette. Mais impossible pour elle de mettre la main sur le dernier accessoire pourtant indispensable.

De quel accessoire s'agit-il ?

- a) Son nez
- b) Son chapeau
- c) Son balai

I

Mélina a encore beaucoup de mal à le tenir correctement. C'est pourquoi son écriture est maladroite et hésitante. Sa maîtresse lui rappelle souvent qu'elle doit le tailler régulièrement.

De quel objet parle-t-on ?

- a) Le stylo
- b) Le crayon
- c) Le taille-crayon

N

Aujourd'hui, Sylvain doit faire son rappel de vaccin. Dès que le médecin prend son bras, il ne peut soutenir du regard cette aiguille qui va être enfoncée.

Quel instrument utilise le médecin ?

- a) Une aiguille de couture
- b) Une seringue
- c) Une fourchette

J

Ce matin, j'ai dû gratter le pare-brise de la voiture avant de démarrer pour aller chercher grand-mère. Mais elle n'ose pas sortir de sa maison car elle a peur d'avoir froid, de glisser et de se casser une jambe.

À quelle saison sommes-nous ?

- a) Automne
- b) Hiver
- c) Printemps

Q

Manon referme le rideau derrière elle. Avant de régler la bonne température, elle vérifie qu'elle pourra bien attraper le savon et son gant de toilette. Elle ne traine pas, son frère attend déjà derrière la porte.

Où se trouve Manon ?

- a) Dans la salle à manger
- b) Dans le salon
- c) Dans la salle de bain

R

Décompositions

Exercices P2



1. Fais des groupes de 10 et complète le tableau.


	<table border="1" style="border-collapse: collapse;"> <tr> <td style="width: 20px; height: 20px;">d</td> <td style="width: 20px; height: 20px;">u_n</td> </tr> <tr> <td style="width: 20px; height: 20px;"></td> <td style="width: 20px; height: 20px;"></td> </tr> </table>	d	u _n		
d	u _n				
	<table border="1" style="border-collapse: collapse;"> <tr> <td style="width: 20px; height: 20px;">d</td> <td style="width: 20px; height: 20px;">u_n</td> </tr> <tr> <td style="width: 20px; height: 20px;"></td> <td style="width: 20px; height: 20px;"></td> </tr> </table>	d	u _n		
d	u _n				

2. Souviens-toi ! Dessine les unités et les dizaines « cachés » dans ces nombres. Fais des rectangles et carrés.

25	20	10
30	31	18

3. Combien y a-t-il d'unités et de dizaines ?

- Dans 92, il y a dizaines et unités.
- Dans 29, il y a dizaines et unités.
- Dans 57, il y a dizaines et unités.
- Dans 71, il y a dizaines et unités.



4. Dans les nombres suivants, souligne le chiffre des dizaines et encadre celui des unités.

17 – 22 – 5 – 96 – 12 – 83 – 100 – 76 – 9 – 62

Étape 30 Maman

Ce dimanche, nous fêtons les mamans. La mienne est vraiment super, c'est pourquoi je vais te la présenter.

Maman se lève toujours la première et me prépare un petit déjeuner que j'aime. À midi, je dîne à l'école et avec mes deux tartines, il y a toujours un petit dessert.

Le soir, elle prépare un bon repas chaud. Et si je renverse sur la nappe ou que je casse mon verre, elle éponge et ramasse les morceaux en me disant : « ça arrive ! »


Elle lessive très vite mon polo vert préféré, raccommode mon short déchiré sur le toboggan et enlève les taches d'encre de mon pull. Quand j'ai de la fièvre, elle me soigne avec amour.

Si je suis tombé dans la cour de récré, elle désinfecte mon genou et chez le dentiste, elle me reconforte.

Si je suis découragé devant ma feuille d'exercices ou que j'ai raté un contrôle, elle m'explique avec beaucoup de patience. Elle trouve du temps pour me déposer au foot, à la piscine et à la bibliothèque. Quand il y a trop de désordre dans ma chambre, elle m'aide à y voir plus clair. Elle m'aime comme je suis avec mes petits défauts et essaie de me corriger quand :

- je suis jaloux de mon petit frère,
- je demande d'acheter plein de choses dans les magasins,
- je suis colérique parce qu'on m'a supprimé la T.V.,
- je l'interromps lorsqu'elle parle.

Pour toutes ces attentions qui m'aident à grandir, je te donne mille bisous, maman chérie !



prénom : _____

date : _____

Étape 30

Maman

1) Souligne le jour de la fête des mamans.

lundi – dimanche – mercredi – dimanche – mardi – vendredi

2

2) Vrai ou faux ?

Maman se lève toujours la dernière.

Maman est super.

Elle m'explique mes fautes lorsque j'ai raté un contrôle.

Elle m'aide à ranger ma chambre.

À midi, je mange les spaghetti bolognaise qu'elle m'a préparé avec amour.

5

3) Colorie dans la même couleur les éléments qui vont ensemble.

3

Le matin	deux tartines plus un petit dessert
à midi	un petit déjeuner que j'aime
Le soir	un repas chaud



4) Barre les mauvaises réponses.

4

Elle lessive très vite mon *short - polo - pantalon* préféré.

Elle raccommode mon *polo - short - bermuda* déchiré.

Elle enlève les taches d'encre de mon *short - pull - polo*.

Si je renverse sur *la nappe - le sol - ma chaise*, elle éponge.

5) Écris + si c'est bien ou - si ce n'est pas bien.

6

Je suis jaloux de mon petit frère.

Je prépare la table pour le souper.

J'interromps maman au téléphone.

J'insiste pour acheter plein de choses dans les magasins.

J'ai une colère lorsqu'on me supprime quelque chose que j'aime.

Je fais de gros câlins à ma maman.

MAMAN



Le goûter

Durant le mois d'avril,
 Antoine veut organiser un goûter.
 Il ne peut avoir lieu aucun dimanche
 car c'est le jour où il va chez ses
 grands-parents.
 Voici le programme de ses invités.
**Aide-le à trouver le jour
 qui conviendra à tout le monde.**

L	M	M	J	V	S	D
	1	2	3	4	5	6
7	8	9	10	11	12	13
14	15	16	17	18	19	20
21	22	23	24	25	26	27
28	29	30				

Je vais faire du ski du 1 au 6.
 Je vais aussi chez le dentiste le 11.




Tous les lundis,
 je vais à la natation. Le 24, je vais chez
 mes grands-parents.



N'oubliez pas que nous partons
 en classes de mer du 14 au 18!

Tous les mercredis, sauf le 23, je joue
 au tennis. Le 25, j'ai un grand tournoi.



Je suis libre tout le mois
 sauf la semaine du 28.



J'ai entraînement de foot
 tous les mardis et mercredis
 à partir du 8 et tous les samedis,
 je joue de la trompette.




Antoine peut donc organiser son goûter le :




1. Colorie et dessine comme demandé :

- La poule a une crête rouge et le barbillon en dessous du bec orange.
- Son bec est jaune et elle a un collier autour du coup avec des perles bleu clair et bleu foncé.
- Les plumes de sa tête sont brun clair et le bas de son corps est brun foncé.
- La poule a des pattes de couleur beige.
- Ses deux poussins sont à droite, un petit est jaune et l'autre est noir.
- Il y a un nid à gauche, avec quatre œufs dedans et un à l'extérieur.



Pairs et impairs

Exercices P2



1. Rappel

Les nombres pairs

Ce sont tous les nombres qui **se terminent** par :

0 2 4 6 8

On peut faire des paquets de deux.

Exemple : 12 est un nombre pair.



Les nombres impairs

Ce sont tous les nombres qui **se terminent** par :

1 3 5 7 9

Si on fait des paquets de deux, il restera toujours un élément tout seul.

2. Classe les nombres dans les bonnes colonnes.

175 350 52 426 61 88 669 17

Nombres pairs	Nombres impairs

3. Réponds aux questions.

- Écris un nombre pair :
- Écris un nombre impair :
- Écris un nombre pair avec un chiffre 3 :
- Écris un nombre impair avec un chiffre 8 :

Recopie les mots de la phrase en ordre .

1. achète / La petite Julie / à la boulangerie . / du pain

2. a bu / un bol / de lait . / Le petit chat gris

3. Maman / sur la table . / a posé / le vase

4. a gagné / à la foire . / une barbie / Ma copine

5. rentre / Papa / dans le garage . / la voiture

6. coupe / Mon papy / de l' arbre . / les branches

7. brosse / Ali / ses dents / tous les jours.

8. adore / à la tomate . / la soupe / Célian




MAX et BOUZOUKI



VOL DE NUIT

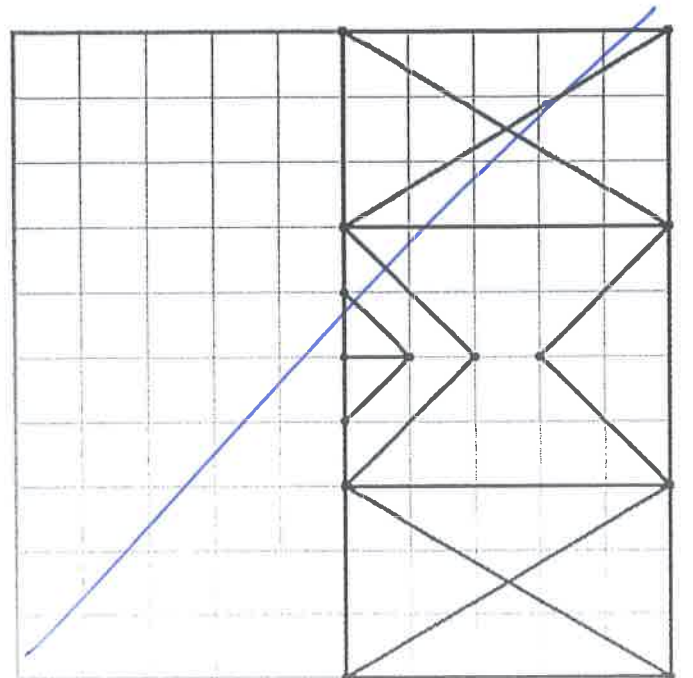
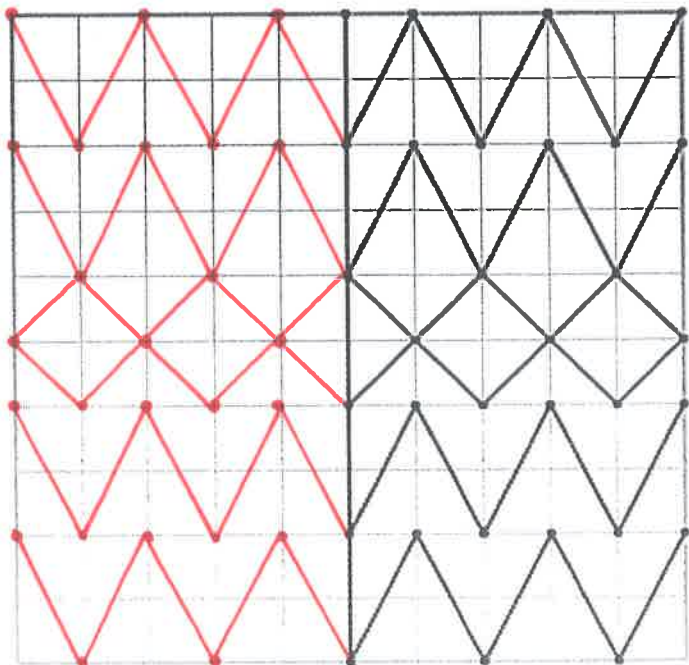
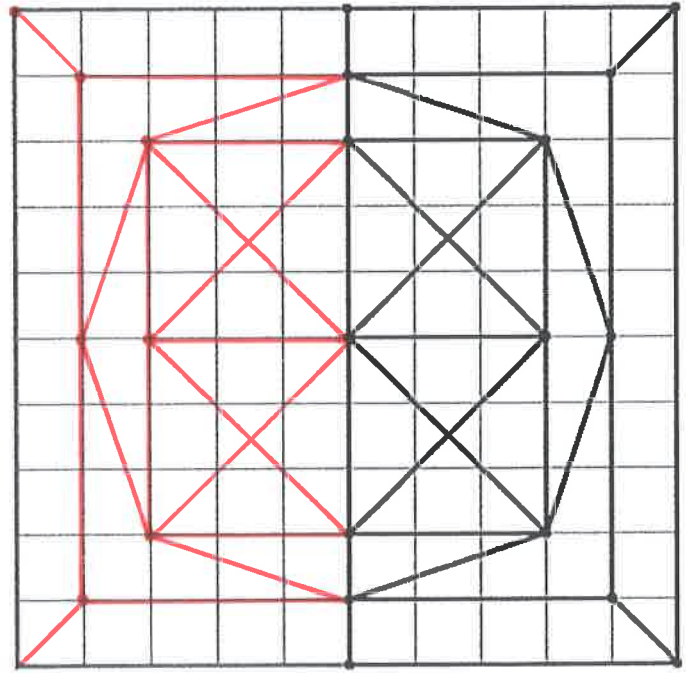
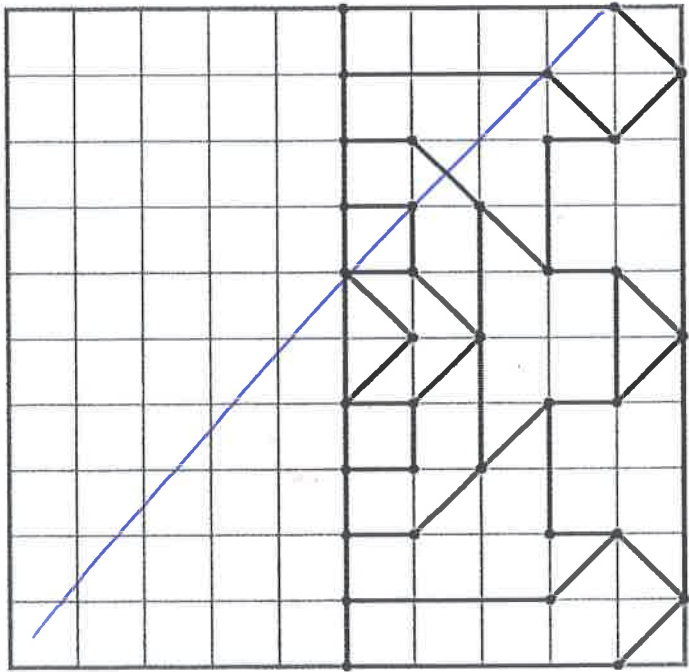
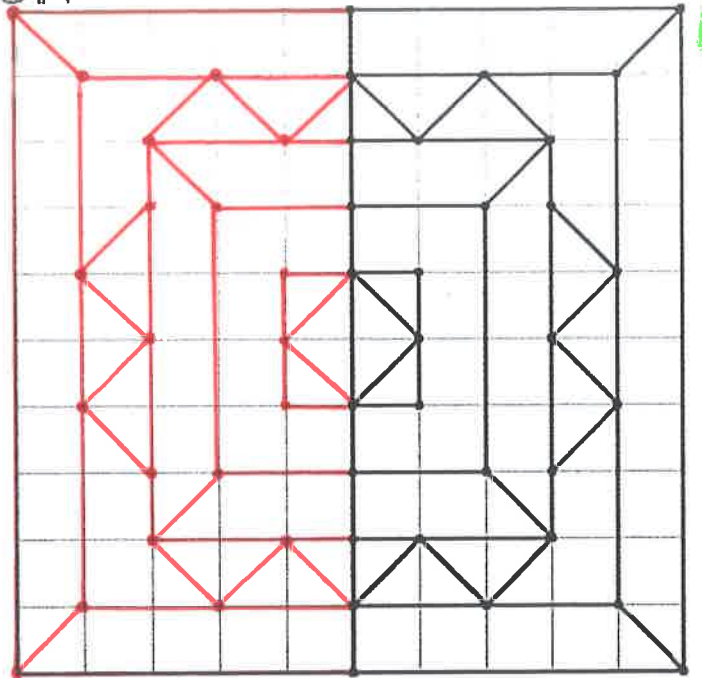
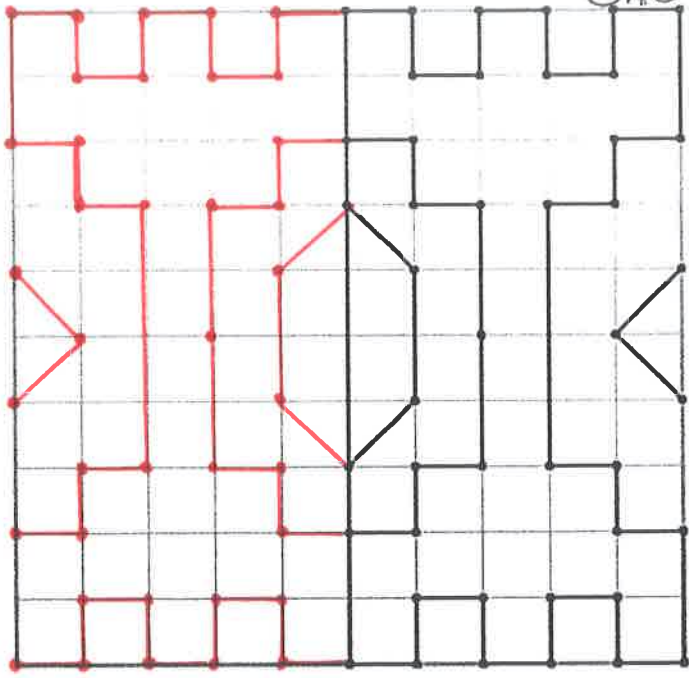






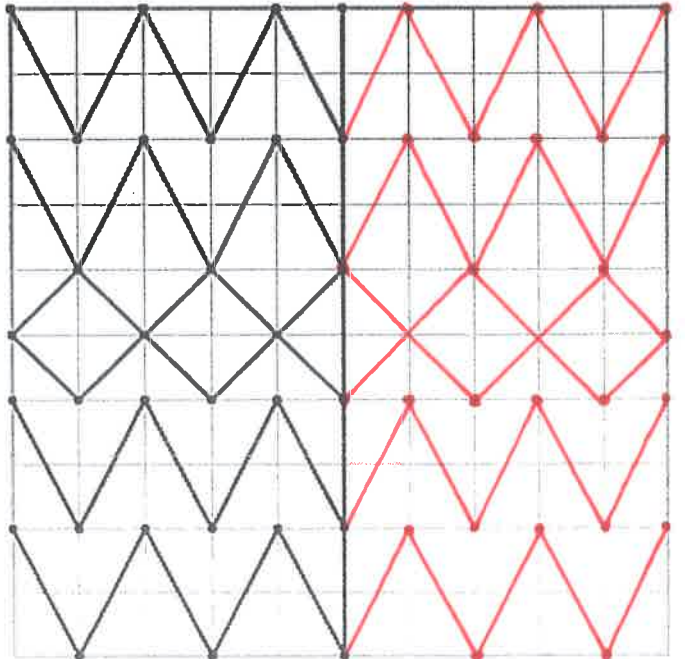
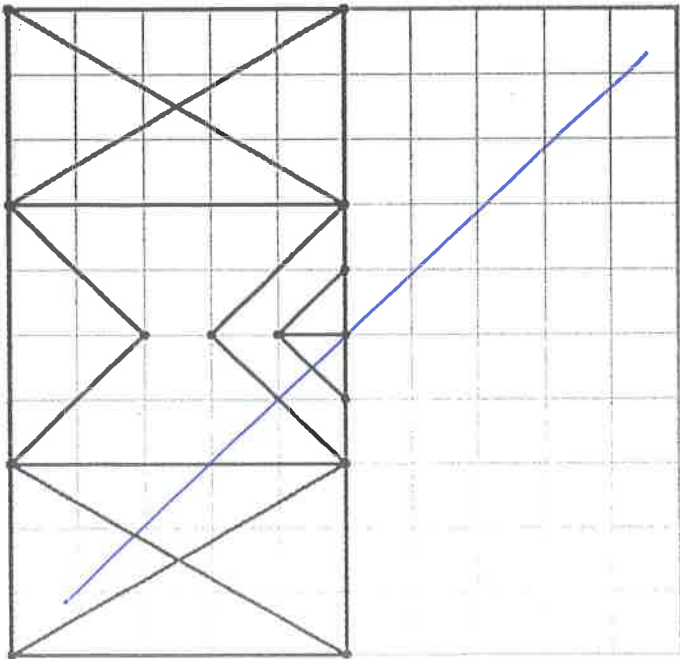
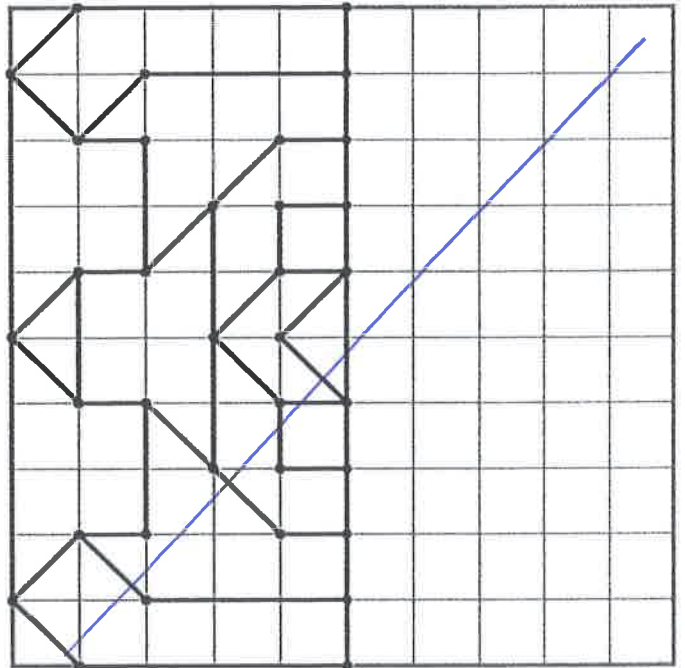
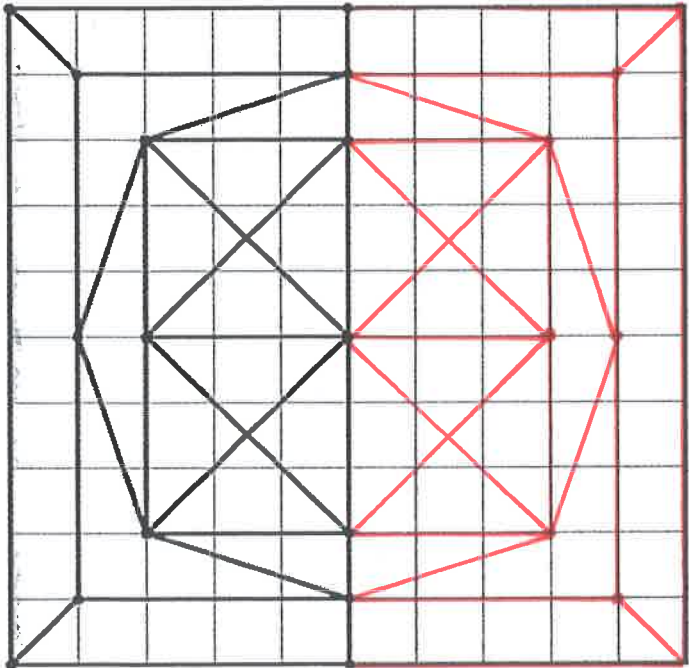
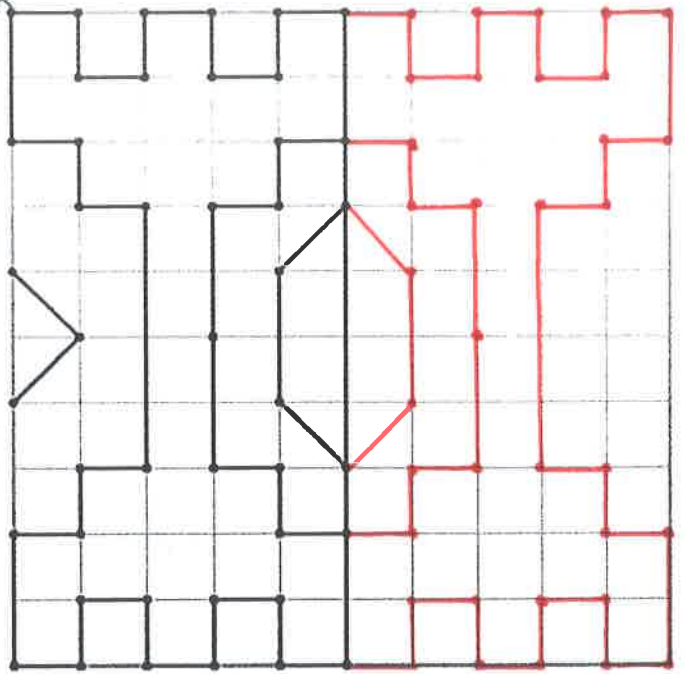
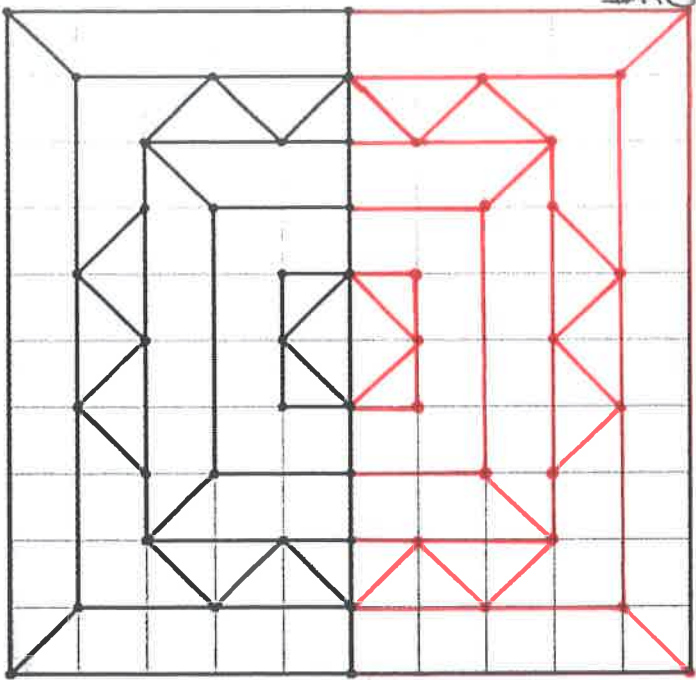
CORRIGÉS

GAUCHER



C1

DROITER



Prénom : _____

Date : _____

Leçon 30
ui



1) Deux phrases ont été mélangées, recopie-les dans l'ordre :

Maman	sera	la	jolies	heureuse	à	monde.
Marie	offrira	de	plus	cartes	du	maman.

- a) *Marie offrira de jolies cartes à maman.*
- b) *Maman sera la plus heureuse du monde.*

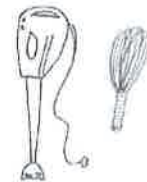
2) Écris le mot qui correspond sous chaque dessin :



une corbeille de *fruits*



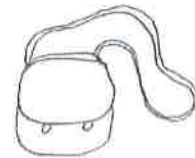
un *parapluie*



les ustensiles de *cuisine*

8

le chiffre *huit*



un sac en *cuir*

3) Relie à la latte ce que chaque personne offrira :

- | | | | |
|----------------|---|---|--------------------------|
| Jean offrira | * | * | un parapluie. |
| Marc offrira | * | * | un stylo. |
| Luc offrira | * | * | huit cartes. |
| Céline offrira | * | * | un gâteau. |
| Sophie offrira | * | * | une corbeille de fruits. |
| Marie offrira | * | * | un paquet de biscuits. |

Prénom :

Nombre

Mathématiques

Les dizaines entières

Exercices P2



1. Entoure les dizaines entières.

50	23	1	10	90	65	53	40	74	20	30	18	60	25	30	55	50
----	----	---	----	----	----	----	----	----	----	----	----	----	----	----	----	----

2. Complète la suite des dizaines (entières).

0	10	20	30	40	50	60	70	80	90	100
---	----	----	----	----	----	----	----	----	----	-----

3. Relie le nom avec le nombre.

vingt quarante cent cinquante quatre-vingts nonante trente soixante

100	80	20	40	50	30	60	90
----------------	---------------	---------------	---------------	---------------	---------------	---------------	---------------

4. Il manque une dizaine entière dans l'exercice 3. Écris-la en dessous :

en chiffres	en lettres
10	dix

5. Quel est la (première) dizaine entière après les nombres suivants ? Combien il faut ajouter pour l'atteindre ?

La dizaine entière après 28 est : 30	$28 + 2 = 30$	La dizaine entière après 46 est : 50	$46 + 4 = 50$
La dizaine entière après 53 est : 60	$53 + 7 = 60$	La dizaine entière après 71 est : 80	$71 + 9 = 80$
La dizaine entière après 19 est : 20	$19 + 1 = 20$	La dizaine entière après 94 est : 100	$94 + 6 = 100$
La dizaine entière après 37 est : 40	$37 + 3 = 40$	La dizaine entière après 88 est : 90	$88 + 2 = 90$

Ce qui l'a attiré dans ce métier, c'est de sauver et d'aider les gens, bien sûr. Mais il adore également conduire les énormes véhicules rouges garés à la caserne.

Qui conduit ces véhicules ?

- a) Un ambulancier
- b) Un pompier
- c) Un chauffeur de bus

E

Bien sûr, mes chaussures neuves me faisaient un peu mal aux pieds, mais j'étais contente de retrouver mes copines. Dès que je les vis arriver, je fis un bisou à maman et courus les rejoindre.

Qui parle ?

- a) Une institutrice
- b) Une maman
- c) Une petite fille

A

Demain, comme tous les dimanches, j'irai à la piscine avec maman. J'espère y retrouver tous mes amis habituels pour jouer avec eux.

Quel jour sommes-nous ?

- a) Dimanche
- b) Lundi
- c) Samedi

F

Paul ouvre le parasol, déroule sa serviette, enfile son maillot de bain, il entraîne avec lui sa sœur qui a terminé la construction de son château. Il court et envoie du sable partout.

Où se trouvent Paul et sa sœur ?

- a) À la piscine
- b) À la mer
- c) Dans le jardin

B

La dame me pèse, me mesure, me met un casque sur les oreilles pour voir si j'entends bien et me tend un petit pot pour que je fasse pipi dedans.

Qui est cette dame ?

- a) L'institutrice
- b) Une infirmière
- c) Une vendeuse

M

Nina a préparé son déguisement de sorcière pour le carnaval. Elle a sorti sa cape, son chapeau et sa baguette. Mais impossible pour elle de mettre la main sur le dernier accessoire pourtant indispensable.

De quel accessoire s'agit-il ?

- a) Son nez
- b) Son chapeau
- c) Son balai

I

Mélina a encore beaucoup de mal à le tenir correctement. C'est pourquoi son écriture est maladroite et hésitante. Sa maîtresse lui rappelle souvent qu'elle doit le tailler régulièrement.

De quel objet parle-t-on ?

- a) Le stylo
- b) Le crayon
- c) Le taille-crayon

N

Aujourd'hui, Sylvain doit faire son rappel de vaccin. Dès que le médecin prend son bras, il ne peut soutenir du regard cette aiguille qui va être enfoncée.

Quel instrument utilise le médecin ?

- a) Une aiguille de couture
- b) Une seringue
- c) Une fourchette

J

Ce matin, j'ai dû gratter le pare-brise de la voiture avant de démarrer pour aller chercher grand-mère. Mais elle n'ose pas sortir de sa maison car elle a peur d'avoir froid, de glisser et de se casser une jambe.

À quelle saison sommes-nous ?

- a) Automne
- b) Hiver
- c) Printemps

Q

Manon referme le rideau derrière elle. Avant de régler la bonne température, elle vérifie qu'elle pourra bien attraper le savon et son gant de toilette. Elle ne traine pas, son frère attend déjà derrière la porte.

Où se trouve Manon ?

- a) Dans la salle à manger
- b) Dans le salon
- c) Dans la salle de bain

R

Décompositions

Exercices P2



1. Fais des groupes de 10 et complète le tableau.


	<table border="1"> <tr> <td>d</td> <td>u_n</td> </tr> <tr> <td>2</td> <td>0</td> </tr> </table>	d	u _n	2	0
d	u _n				
2	0				
	<table border="1"> <tr> <td>d</td> <td>u_n</td> </tr> <tr> <td>2</td> <td>8</td> </tr> </table>	d	u _n	2	8
d	u _n				
2	8				

2. Souviens-toi ! Dessine les unités et les dizaines « cachés » dans ces nombres. Fais des rectangles et carrés.

25 	20 	10
30 	31 	18

3. Combien y a-t-il d'unités et de dizaines ?

- Dans 92, il y a 9 dizaines et 2 unités.
- Dans 29, il y a 2 dizaines et 9 unités.
- Dans 57, il y a 5 dizaines et 7 unités.
- Dans 71, il y a 7 dizaines et 1 unité.



4. Dans les nombres suivants, souligne le chiffre des dizaines et encadre celui des unités.

17 - 20 - 5 - 96 - 12 - 83 - 100 - 76 - 9 - 62

prénom : _____

date : _____

Étape 30

Maman

1) Souligne le jour de la fête des mamans.lundi - dimanche - mercredi - dimanche - mardi - vendredi

2

2) Vrai ou faux ?Maman se lève toujours la dernière. fauxMaman est super. Vrai.Elle m'explique mes fautes lorsque j'ai raté un contrôle. Vrai...Elle m'aide à ranger ma chambre. Vrai.....À midi, je mange les spaghettis bolognaise qu'elle m'a préparé avec amour. faux.....

5

3) Colorie dans la même couleur les éléments qui vont ensemble.

3

le matin ●	● deux tartines plus un petit dessert
à midi ●	● un petit déjeuner que j'aime
le soir ●	● un repas chaud





4) Barre les mauvaises réponses.

4

Elle lessive très vite mon *short* - *polo* - ~~*pantalon*~~ préféré.

Elle raccommode mon ~~*polo*~~ - *short* - ~~*bermuda*~~ déchiré.

Elle enlève les taches d'encre de mon *short* - *pull* - ~~*pete*~~.

Si je renverse sur *la nappe* - ~~*le sol*~~ - ~~*ma chaise*~~, elle éponge.

5) Écris + si c'est bien ou - si ce n'est pas bien.

6

Je suis jaloux de mon petit frère. (⊖)

Je prépare la table pour le souper. (⊕)


J'interromps maman au téléphone. (⊖)

J'insiste pour acheter plein de choses dans les magasins. (⊖)

J'ai une colère lorsqu'on me supprime quelque chose que j'aime. (⊖)

Je fais de gros câlins à ma maman. (⊕)

MAMAN





Le goûter

Durant le mois d'avril,
Antoine veut organiser un goûter.
Il ne peut avoir lieu aucun dimanche
car c'est le jour où il va chez ses
grands-parents.

Voici le programme de ses invités.
**Aide-le à trouver le jour
qui conviendra à tout le monde.**

L	M	M	J	V	S	D
	1	2	3	4	5	6
7	8	9	10	11	12	13
14	15	16	17	18	19	20
21	22	23	24	25	26	27
28	29	30				

PROBLÈMES

Je vais faire du ski du 1 au 6.
Je vais aussi chez le dentiste le 11.




Tous les lundis,
je vais à la natation. Le 24, je vais chez
mes grands-parents.



N'oubliez pas que nous partons
en classes de mer du 14 au 18!

Tous les mercredis, sauf le 23, je joue
au tennis. Le 25, j'ai un grand tournoi.



J'ai entraînement de foot
tous les mardis et mercredis
à partir du 8 et tous les samedis,
je joue de la trompette.



Je suis libre tout le mois
sauf la semaine du 28.



Antoine peut donc organiser son goûter le :

jeudi 10
avril

Prénom :

Français

Je lis, je fais




Lecture & graphisme



Exercices P2

1. Colorie et dessine comme demandé :

- La poule a une crête rouge et le barbillon en dessous du bec orange.
- Son bec est jaune et elle a un collier autour du coup avec des perles bleu clair et bleu foncé.
- Les plumes de sa tête sont brun clair et le bas de son corps est brun foncé.
- La poule a des pattes de couleur beige.
- Ses deux poussins sont à droite, un petit est jaune et l'autre est noir.
- Il y a un nid à gauche, avec quatre œufs dedans et un à l'extérieur.



Pairs et impairs

Exercices P2



1. Rappel

Les nombres pairs

Ce sont tous les nombres qui se terminent par :

0 2 4 6 8

On peut faire des paquets de deux.

Exemple : 12 est un nombre pair.



Les nombres impairs

Ce sont tous les nombres qui se terminent par :

1 3 5 7 9

Si on fait des paquets de deux, il restera toujours un élément tout seul.

2. Classe les nombres dans les bonnes colonnes.

175 350 52 426 61 88 669 17

Nombres pairs	Nombres impairs
350, 52, 426, 88	175, 61, 669, 17

3. Réponds aux questions.

a) Écris un nombre pair : 10

b) Écris un nombre impair : 19

c) Écris un nombre pair avec un chiffre 3 : 32

d) Écris un nombre impair avec un chiffre 8 : 87

Recopie les mots de la phrase en ordre .

1. achète / La petite Julie / à la boulangerie . / du pain

La petite Julie achète du pain à la boulangerie.

2. a bu / un bol / de lait . / Le petit chat gris

Le petit chat gris a bu un bol de lait.

3. Maman / sur la table . / a posé / le vase

Maman a posé le vase sur la table.

4. a gagné / à la foire . / une barbie / Ma copine

Ma copine a gagné une barbie à la foire.

5. rentre / Papa / dans le garage . / la voiture

Papa rentre la voiture dans le garage.

6. coupe / Mon papy / de l' arbre . / les branches

Mon papy coupe les branches de l'arbre.

7. brosse / Ali / ses dents / tous les jours.

Ali brosse ses dents tous les jours.

8. adore / à la tomate . / la soupe / Célian

Célian adore la soupe à la tomate.

